









# N3 Fractions

## FICHE 1 : VOCABULAIRE

1 Complète ces tableaux et colorie les dessins.

	Fraction	Dessin	Écriture littérale
a.	$\frac{2}{3}$		
b.			
c.			Un quart
d.	$\frac{2}{4}$		

	Fraction	Dessin	Écriture littérale
e.			
f.			Trois tiers
g.	$\frac{2}{2}$		
h.			

2 Complète avec l'écriture littérale.

- a.  $\frac{3}{5}$  : .....
- b.  $\frac{12}{7}$  : .....
- c.  $\frac{25}{9}$  : .....
- d.  $\frac{6}{21}$  : .....
- e.  $\frac{15}{15}$  : .....
- f.  $\frac{30}{34}$  : .....

3 Complète avec la fraction.

- a. Dix-sept treizièmes : .....
- b. Trois huitièmes : .....
- c. Onze vingt-deuxièmes : .....
- d. Six septièmes : .....
- e. Trente-deux quarantièmes : .....
- f. Douze seizièmes : .....

4 Complète ces tableaux.

	Fraction	Numérateur	Dénominateur
a.	$\frac{5}{6}$		
b.	$\frac{19}{9}$		
c.	$\frac{20}{30}$		

	Fraction	Numérateur	Dénominateur
d.		7	11
e.		14	17
f.		20	23