

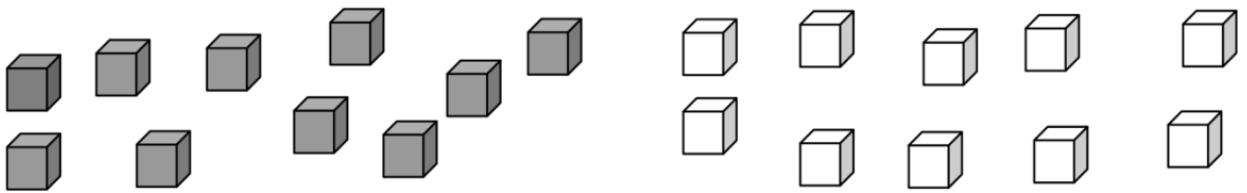


Enigme P

Peinture sur bois

Prune aime peindre les cubes en bois.

Elle a 10 cubes gris et 10 cubes blancs. Lundi elle décide de peindre 3 cubes blancs en gris et 1 cube gris en blanc. Elle fait la même chose tous les matins.



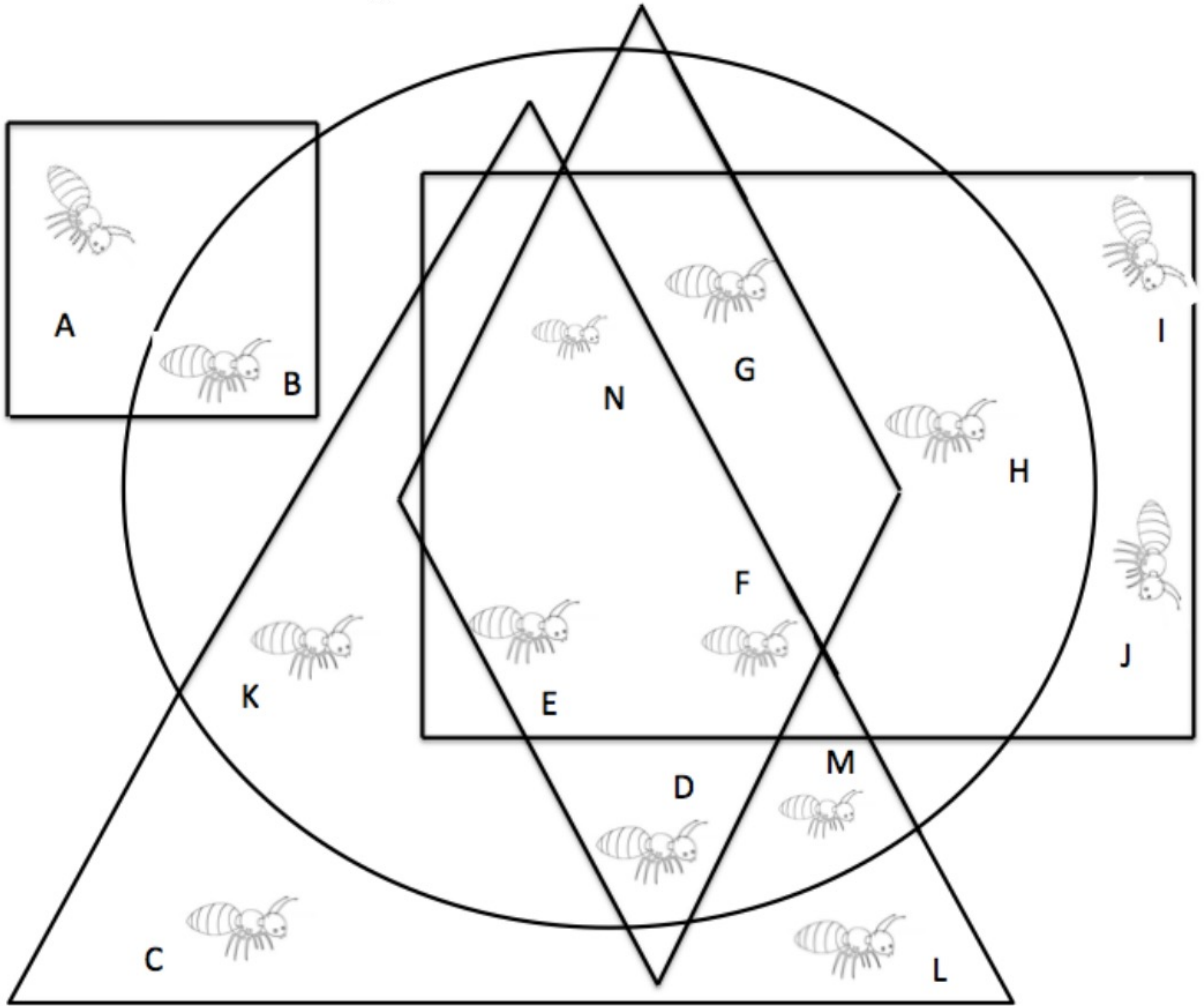
Combien possédera-t-elle de cubes gris le mercredi soir ?

Enigme P



Fifi la fourmi se cache :

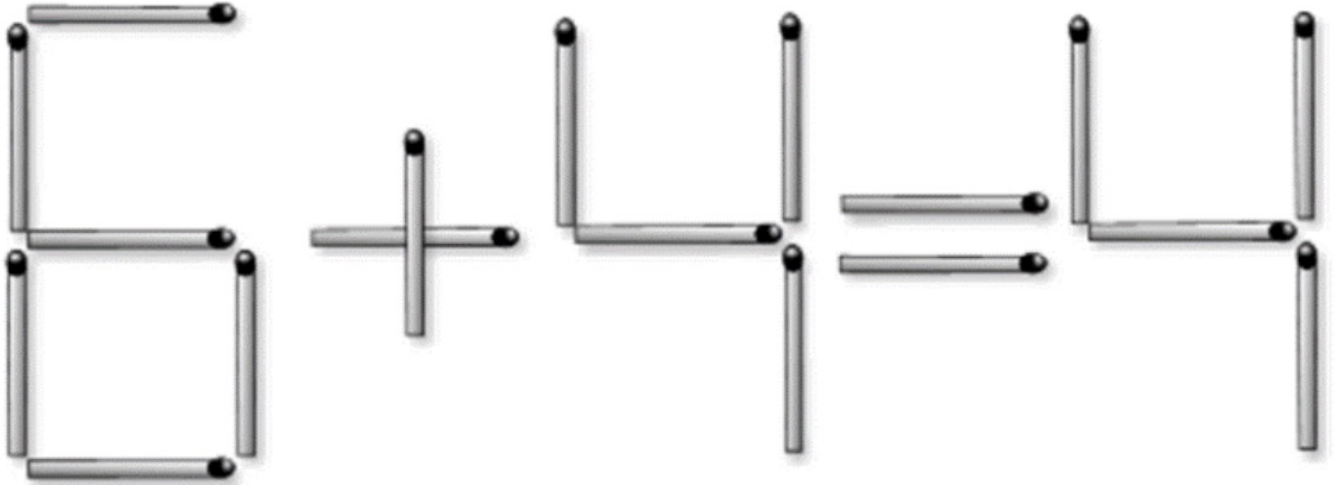
- Elle est dans un cercle
- Elle n'est pas dans un carré
- Elle est dans un triangle
- Elle n'est pas dans un rectangle
- Elle est dans un losange



Enigme P



Rendez ce calcul correct en ne déplaçant qu'une seule allumette.



Vous êtes champions si vous trouvez les 3 solutions.

Enigme P




Loki invente un jeu avec des lettres.
Les consonnes sont gratuites, on doit juste acheter
les voyelles.

Dans ce jeu, voici le prix des noms des planètes :

- Le mot VENUS vaut 34€.
- Le mot MERCURE vaut 49€.
- Le mot JUPITER vaut 44€.
- Le mot PLUTON vaut le même prix que le mot TERRE.

Combien vaut le mot SOLEIL ?



Enigme P



En intercalant des signes **+** dans l'écriture de **987654321**, sans changer l'ordre des chiffres, ni en supprimant aucun, on peut obtenir différents nombres, par exemple :

$$98 + 7 + 6 + 5 + 4 + 3 + 2 + 1 = 126$$

$$9 + 8 + 7 + 654 + 32 + 1 = 711$$

Essayez d'obtenir les nombres suivants :

1 962

900

Et pour finir, trouvez deux façons différentes d'obtenir :

486