




Enigme 0

La grenouille

Smack la grenouille veut traverser l'étang.

Elle saute 6 fois, toujours vers l'avant (tout droit ou en biais).

La somme des 6 nénuphars doit faire 27.



Colorie un chemin possible.

Enigme 0

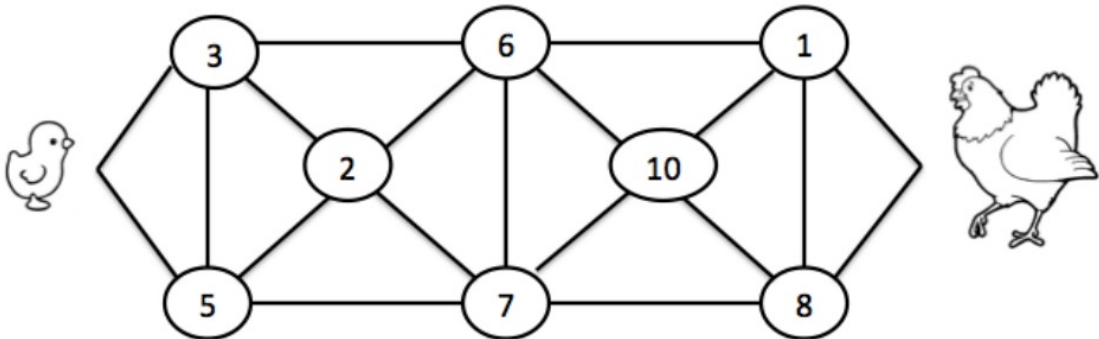


Le poussin

Le poussin veut rejoindre sa mère mais :

- la somme des nombres sur lesquels il passe doit être égale à 27
- il ne peut pas passer deux fois sur le même nombre

Trouve deux chemins possibles.



Enigme 0



Les camions


23 grosses caisses sont à répartir dans 6 camions.

Chaque camion doit contenir 3, 4 ou 5 caisses.

Comment va-t-on charger les camions ?



Trouve 2 solutions



Enigme 0



La tarte aux pommes

Si on donne 4 coups de couteau en ligne droite dans cette tarte aux pommes, on peut obtenir 11 parts.

Trace les 4 coups de couteau.



Attention, les parts ne seront pas du tout égales !

Enigme 0



Les voitures de Boucle d'Or

Dans le garage de Boucle d'Or, il y a 3 tailles de voitures : des petites, des moyennes et des grosses.

Toutes ces voitures sont soit noires, soit blanches et il y a autant de voitures noires que de voitures blanches.

Papa Ours, Maman Ours et Petit Ours Brun font les remarques suivantes :

- " Il y a cinq petites voitures et trois moyennes !" dit Papa Ours.

- "Il y a deux petites voitures noires!" dit Maman Ours.

- "Il n'y a pas de voiture moyenne noire ni de grosse voiture blanche !" dit Petit Ours Brun

Boucle d'Or leur demande alors :

combien y a-t-il de voitures noires ?

combien y a-t-il de voitures blanches ?

combien y a-t-il de grosses voitures dans le garage ?