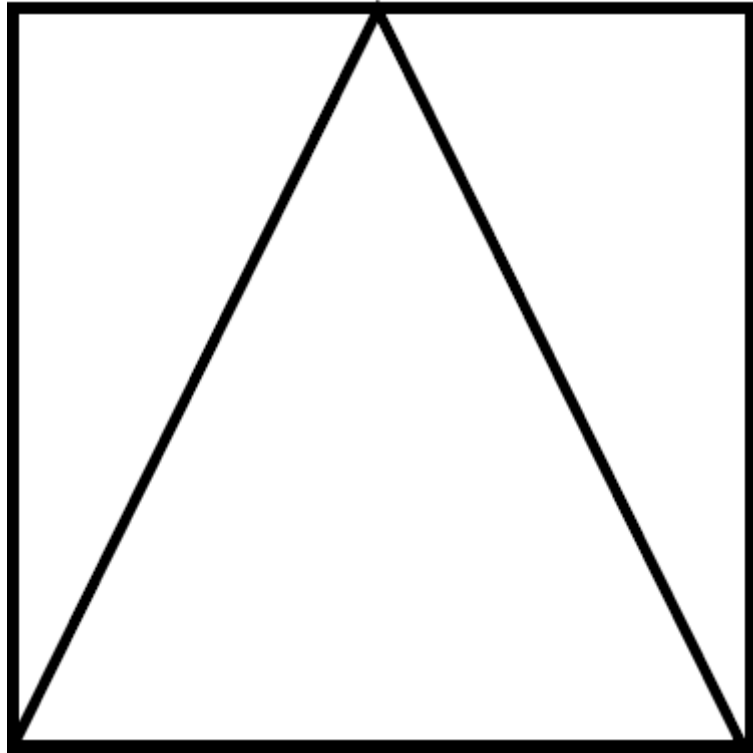


# Vendredi 12 juin

## Exercice 1 : géométrie.

Regarde cette figure pendant 30 secondes puis cache-la et reproduis-la sur ton ardoise.



Compte le nombre de triangles. Il y a ..... triangles.

## Exercice 2 : calculs sur l'ardoise

$15 + 4 = \dots$        $25 + 3 = \dots$        $32 + 6 = \dots$        $45 + 5 = \dots$        $10 + 6 = \dots$

$26 - 2 = \dots$        $38 - 4 = \dots$        $49 - 4 = \dots$        $55 - 3 = \dots$        $16 - 6 = \dots$

## Exercice 3 : les doubles

$2 + 2 = \dots$        $3 + 3 = \dots$        $4 + 4 = \dots$        $5 + 5 = \dots$        $6 + 6 = \dots$

$7 + 7 = \dots$        $8 + 8 = \dots$        $9 + 9 = \dots$        $10 + 10 = \dots$

## Exercice 4 : jeu de la cible au tableau

Exercice 5 : problème





# PROBLEMES CP (1)

16

Mamie a planté des fleurs. Il y a une rangée de 12 tulipes, une rangée de 12 jonquilles et une rangée de 6 roses.

**Combien y a-t-il de fleurs au total ?**

Exercice 6 :



# Repro ★

5

Reproduis la figure :

