


# Vendredi 19 juin

**Exercice 1 : compter de 100 en 100 en partant de 162 jusqu'à 962.**

**Exercice 2 : dictée de nombres sur l'ardoise**

701,565,739.

**Exercice 3 : jeu de la cible.**



Rouge (centre) = 100 points

Vert = 50 points

Bleu (extérieur) = 10 points

Scores à trouver :

420

870

140

Utiliser le moins de marques possibles :

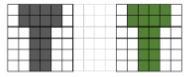


Par exemple, s'il faut faire 5 points, faire une marque dans la zone verte plutôt que 5 marques dans la zone bleue.

**Exercice 4 : interroger les tables de multiplication de 3,4,5 à l'oral.**

$4 \times 6 = ..$      $3 \times 6 = ..$      $5 \times 7 = .$      $4 \times 5 = ..$      $3 \times 6 = ..$      $5 \times 3 = ..$      $3 \times 8 = ..$

**Exercice 5 : Problème oral.**

Des coureurs vont faire cinq tours de la ville. Chaque tour fait 3 kms. Combien vont-ils courir au total ?

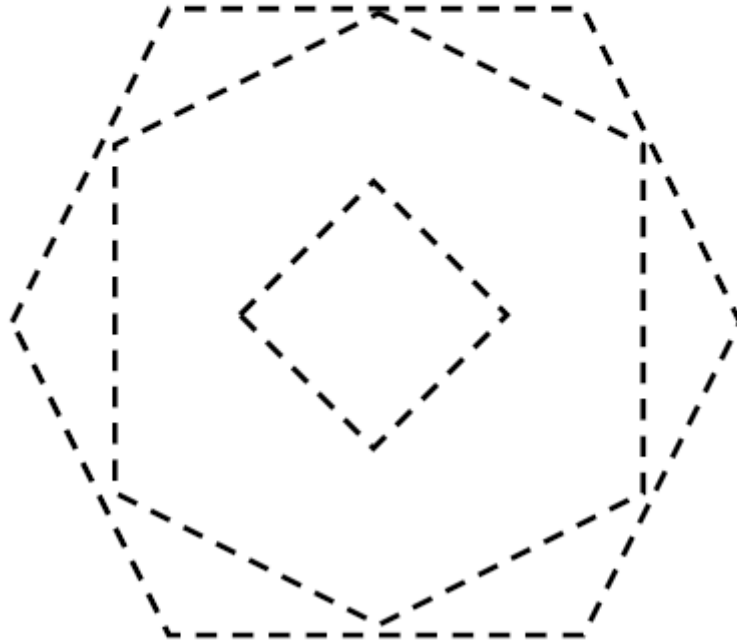
|   |  |          |
|---|--|----------|
|  | <b>QUADRILLO ★★</b>  | <b>2</b> |
| <b>Reproduis la figure :</b>  |  |          |
|  |  |          |



# Le traceur★★

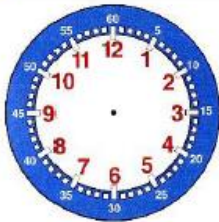
10

Repasse sur les traits en pointillés :

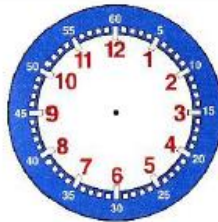


# HORODATOR★★

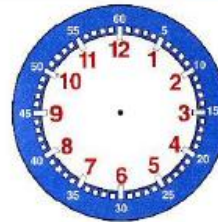
6



Il est 8 h 30



Il est 4 h 30



Il est 2 h 30



# PyRaMiDe★★

5

