


Vendredi 19 juin

Exercice 1 : compter de 10 en 10 jusqu'à 70.

Exercice 2 : dictée de nombres sur l'ardoise

71,65,79.

Exercice 3 : jeu de la cible.



Rouge (centre) = 10 points

Vert = 5 points

Bleu (extérieur) = 1 point

Scores à trouver :

73

66

61

Utiliser le moins de marques possibles :

Par exemple, s'il faut faire 5 points, faire une marque dans la zone verte plutôt que 5 marques dans la zone bleue.

Exercice 4 : enlever 20.

Laisser l'élève essayer seul puis expliquer la méthode.

$$52 - 20 = ..$$

Je ne retire que 2 dizaines, je ne touche pas aux unités.

Je cherche le chiffre des dizaines dans 52 c'est 5, je lui enlève 2 : $5 - 2 = 3$.

J'écris 3 à la place du 5 = 32 et je lis le résultat « trente-deux ».

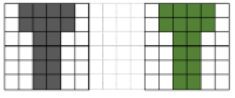
$$52 - 20 = 32.$$

Faire pareil avec :

$$25 - 20 = .. \quad 58 - 20 = .. \quad 43 - 20 = ..$$

Exercice 5 : Problème oral.

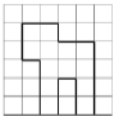
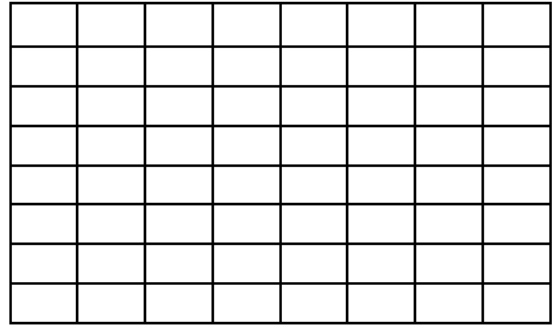

Des coureurs vont faire dix tours de la ville. Chaque tour fait 2 kms. Combien vont-ils courir au total ?



QUADRILLO ★

13

Reproduis la figure :



Repro ★

6

Reproduis la figure :

