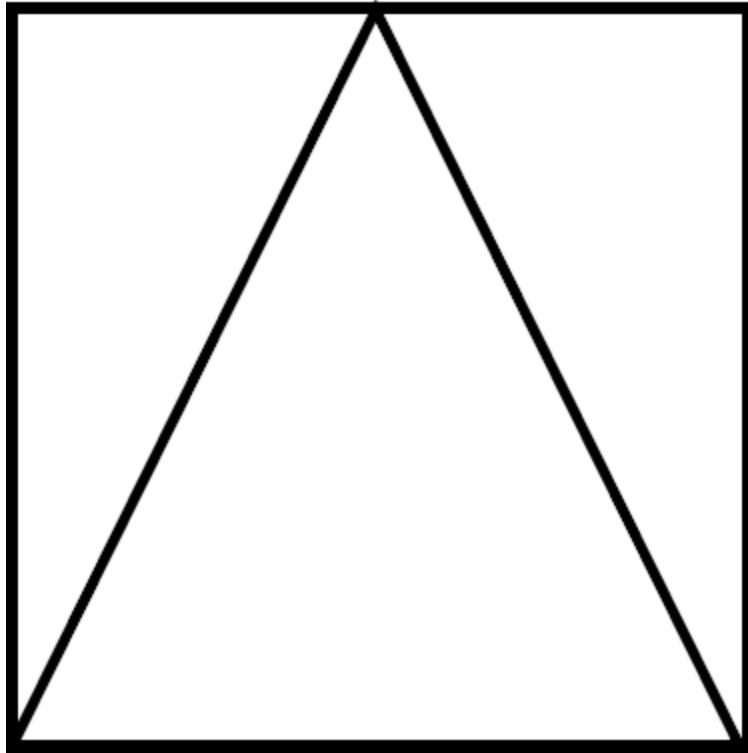


Vendredi 12 juin

Exercice 1 : géométrie.

Regarde cette figure pendant 30 secondes puis cache-la et reproduis-la sur ton ardoise.



Compte le nombre de triangles. Il y a triangles.

Exercice 2 : numération

Chercher la dizaine suivante :

536 → 540

423 → ...

319 → ...

448 → ...

125 → ...

Exercice 3 : + 10 et - 10

135 + 10 = ... 236 + 10 = ... 315 + 10 = ... 423 + 10 = ... 446 + 10 = ...

135 - 10 = ... 236 - 10 = ... 315 - 10 = ... 423 - 10 = ... 446 - 10 = ...

Exercice 4 : jeu de la cible au tableau

Exercice 5 : problème




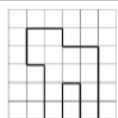
PROBLÈMES CE1 (2)

10

Le marchand de fruits et légumes a installé 15 kg de carottes, 13 kg de courgettes et 8 kg de brocolis. Il a gagné 120€.

Quelle masse de légumes a-t-il vendue ?

Exercice 6 :



Repro ★★

5

