




## B La légende du plan

1  Relie les bonnes réponses.

- Sur ce plan, Paris est représenté  en jaune foncé
- Les bois sont représentés  par un triangle rouge
- La tour Eiffel est représentée  en vert

## C L'orientation du plan

2  Coche en t'aidant de la rose des vents.

Sur ce plan, le nord se trouve :

- en haut     en bas     à droite     à gauche


3  Écris :

- le nom d'une ville au nord de Paris : Clichy ou Saint-Denis
- le nom du bois à l'est de Paris : le bois de Vincennes

## D Le quadrillage

4  Colorie la bonne réponse.

La tour Eiffel se trouve dans la case C4 D4 C3 B3

5  Écris le nom d'un monument qui se trouve en D3 : Le Louvre ou Notre-Dame

### JE RETIENS

→ Sur un plan, la légende permet de comprendre les couleurs et les dessins utilisés. Par exemple, on peut représenter les bois par la couleur verte.