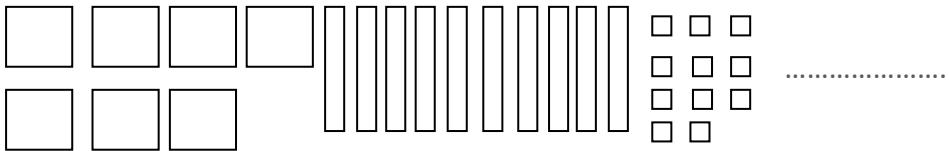
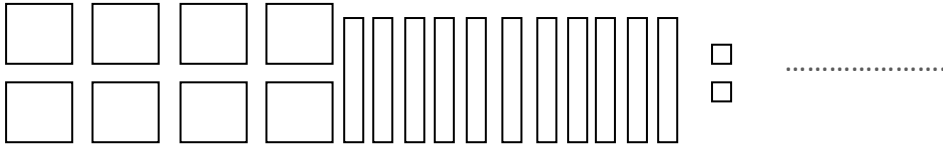
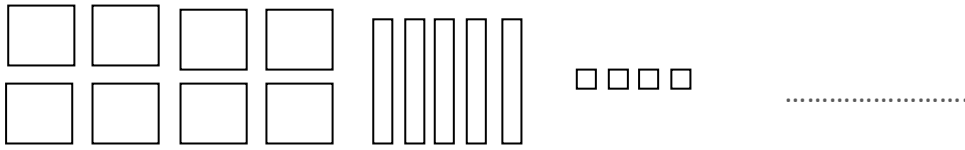


Mathématiques numération mardi 9 juin

- Ecrire les nombres donnés en chiffre



- Compléter les équivalences suivantes :

$$3c = \dots\dots\dots u$$

$$2d = \dots\dots\dots u$$

$$12d = \dots\dots c \text{ et } \dots\dots d$$

$$21u = \dots\dots d \text{ et } \dots\dots u$$

- Ecris le nombre correspondant :

$$2c = \dots\dots\dots$$

$$4d = \dots\dots\dots$$

$$12d = \dots\dots\dots$$

$$21u = \dots\dots\dots$$

$$2c \text{ et } 12d = \dots\dots\dots$$

$$12d \text{ et } 21u = \dots\dots\dots$$