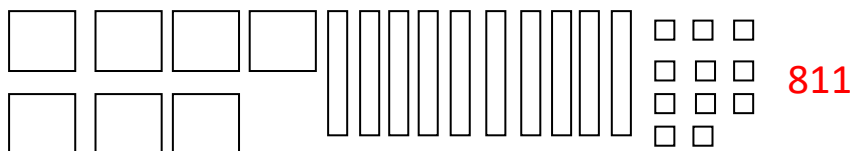
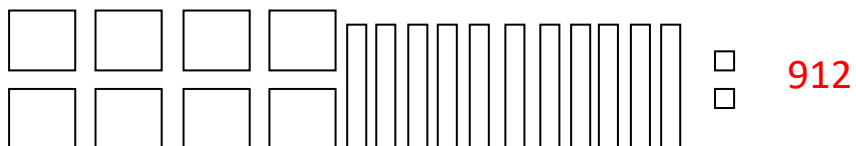
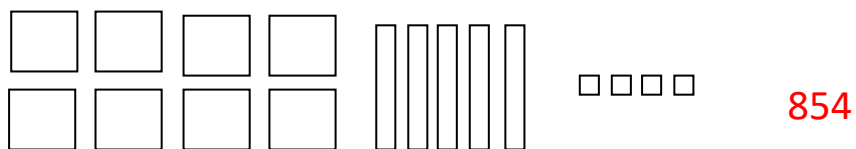


## Mathématiques numération mardi 9 juin

- Ecrire les nombres donnés en chiffre



- Compléter les équivalences suivantes :

$$3c = 300u$$

$$2d = 20u$$

$$12d = 1c \text{ et } 2d$$

$$21u = 2d \text{ et } 1c$$

- Ecris le nombre correspondant :

$$2c = 200$$

$$4d = 40$$

$$12d = 120$$

$$21u = 21$$

$$2c \text{ et } 12d = 320$$

$$12d \text{ et } 21u = 141$$