


Rallye maths CE1 - Manche 4

Chaque réponse juste rapporte 5 points. Si cette dernière est correctement expliquée, c'est 5 points supplémentaires ! Si la réponse est fautive, l'exercice ne rapporte aucun point.
Attention, il faut choisir 3 exercices : coche ceux que tu as choisis (Exercice 1).

Exercice 1



Le coffre est fermé par un code à 3 chiffres. Chaque chiffre peut être entre 1 et 9.

Le code représente un nombre plus petit que 300. En additionnant tous les chiffres, on trouve 9.

Par exemple 126 est un code possible.

Trouve toutes les solutions possibles !

.....


.....

.....

.....

Exercice 2

Nathan prépare des sachets de sucreries à offrir à ses invités. Il a 15 sucettes et 20 bonbons. Il offre les mêmes sachets à tout le monde.



Combien a-t-il d'invités ?

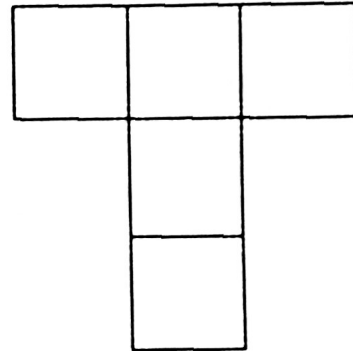
.....

.....

.....

Exercice 3

Les pentaminos sont des figures composées de cinq carrés, reliés entre eux par au moins un côté.

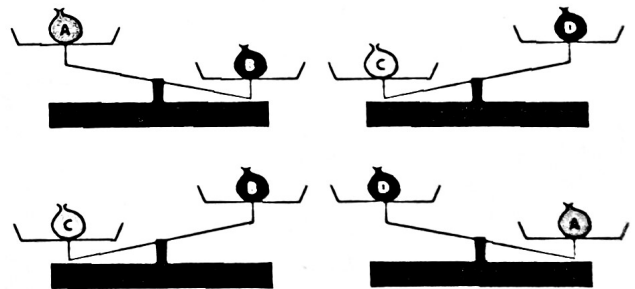


Dessine sur ton cahier tous les pentaminos possibles. Combien sont-ils ?

.....

Exercice 4

Observe les balances.



Classe les quatre sachets du plus léger au plus lourd.

..... < < <