

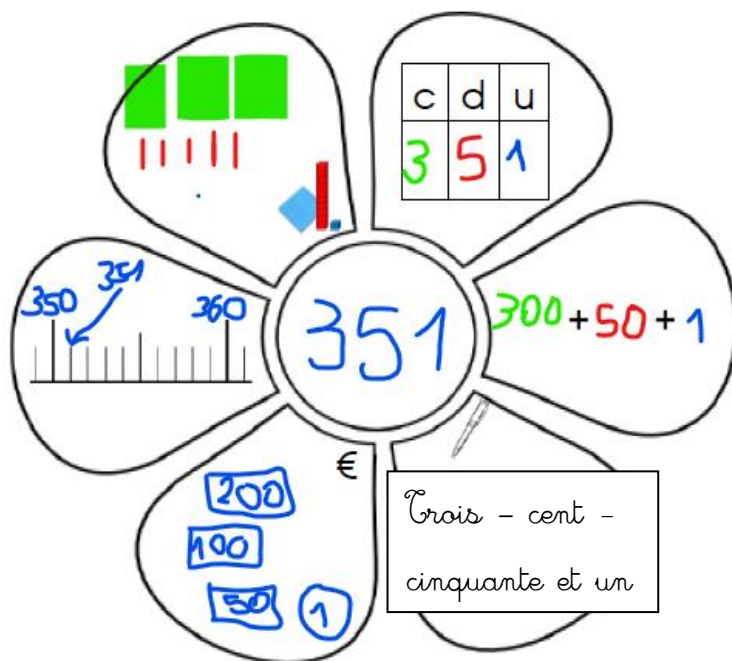
Mardi 2 juin

Exercice 1 : écrire les nombres en lettres sur l'ardoise.

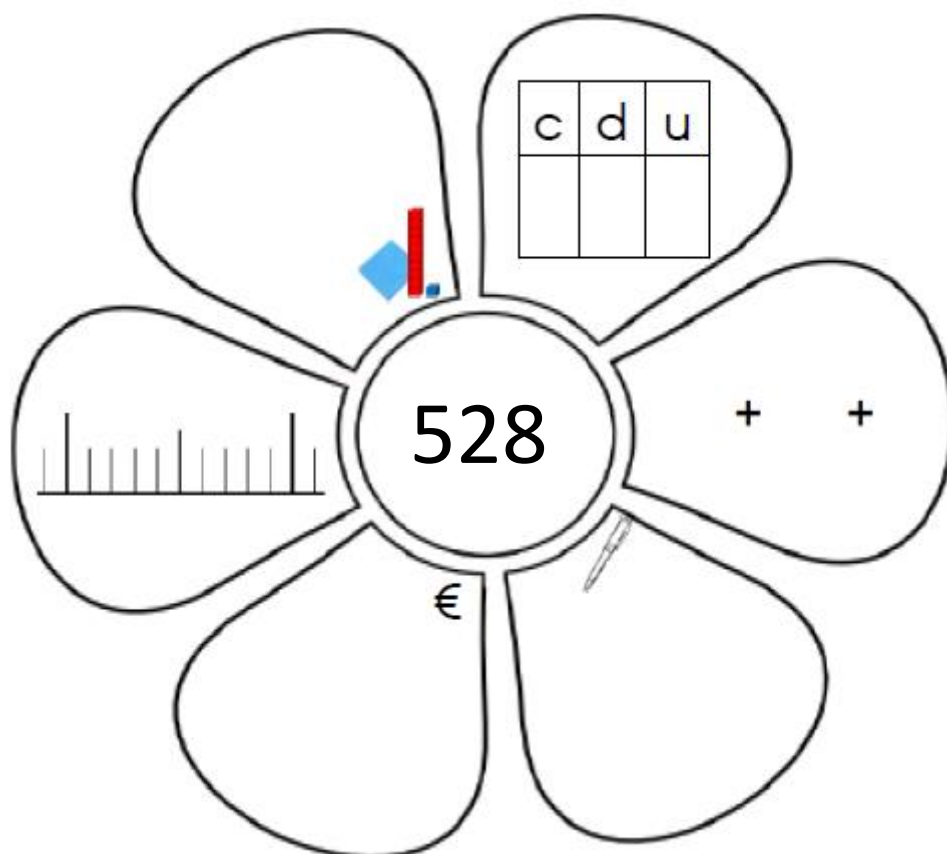
Ecrire : 713 en lettres. Utiliser la leçon du cahier si nécessaire.

Exercice 2 : représenter un nombre dans la fleur numérique.

Voici un exemple avec le nombre 351 :



Faire la même chose avec le nombre 528.



Exercice 3 : Calcul

Chercher sur l'ardoise comment faire **facilement** :

$9 + 6 = \dots$ Je fais $9 + 1 + 5$ car je sais que $9 + 1$ ça fait 10 et $10 + 5$ ça fait quinze.

$9 + 6 = 15$ Si j'organise mon calcul, je suis plus rapide.

A toi d'essayer avec :

$9 + 8 = \dots$ écris ici tes calculs : $9 + 8 = 9 + \dots + \dots = \dots + \dots = \dots$

Maintenant, essayons avec $19 + 16 = \dots$


$$\begin{aligned} 19 + 16 &= 10 + 9 + 10 + 5 + 1 \\ &= 10 + 10 + 9 + 1 + 5 \\ &= 10 + 10 + 10 + 5 \\ &= 30 + 5 \\ &= 35 \end{aligned}$$

A toi d'essayer avec :

$$\begin{aligned} 39 + 16 &= 30 + 9 + 10 + 5 + 1 \\ &= \dots + \dots + \dots + \dots + \dots \\ &= \dots + \dots + \dots + \dots \\ &= \dots + \dots \\ &= \dots \end{aligned}$$

Exercice 4 : multiplication

Sur le papier pointé, j'ai entouré 2 x 4 points en rouge. A toi d'entourer 3 x 5 points en bleu et 4 x 6 points en vert.



Exercice 5 : Problèmes



PROBLÈMES CE1 (2)

4

La piste rose autour du terrain de football fait 400 mètres.
Les élèves doivent faire 3 tours.
Quelle distance vont-ils courir ?



PROBLÈMES CE1 (2)

5

Mes cousins ont chacun un chien. Le caniche fait 12 kg et le
labrador pèse deux fois plus.
Combien pèse le labrador ?