

Jeudi 7 mai

Exercice 1 :

Ecrire en lettres les nombres :

2 :

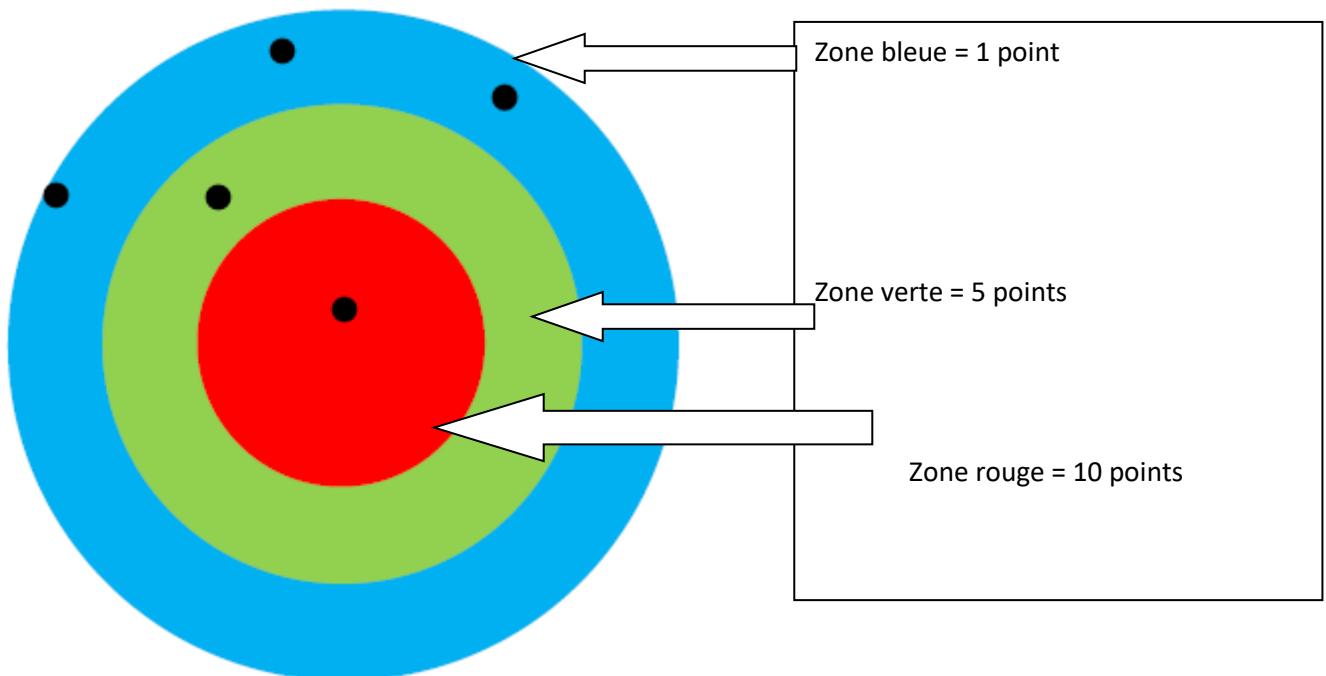
5 :

10 :

Aide : un – deux – trois – quatre – cinq – six – sept – huit – neuf – dix

Exercice 2 : jeu de la cible

Exemple :




Zone bleue = 3 points (1+1+1)

Zone verte = 5 points

Zone rouge = 10 points

TOTAL : 10 + 5 + 3 = 18 points

A toi de jouer :



Zone bleue =

Zone verte =

Zone rouge =

Total =

Exercice 3 : le tableau des nombres Compléter le tableau jusqu'à 69.

Colorier la famille des 10 en rouge, la famille des 20 en vert, la famille des 30 en jaune, la famille des 40 en bleu, la famille des 50 en orange et la famille des 60 en violet.

Les nombres de 1 à 100

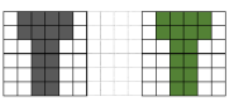
	1	2	3	4	5	6	7	8	9
10	11	12	13	14	15	16	17		19
20	21	22	23	24	25	26	27		29
	31	32		34	35	36	37	38	39
	41	42		44	45	46	47	48	49
	51	52		54					59
	61	62		64	65	66	67	68	69
	71	72	73	74	75	76	77	78	79
80	81				85	86	87	88	89
90	91	92	93	94				98	99

Correction :

Les nombres de 1 à 100

	1	2	3	4	5	6	7	8	9
10	11	12	13	14	15	16	17		19
20	21	22	23	24	25	26	27		29
	31	32		34	35	36	37	38	39
	41	42		44	45	46	47	48	49
	51	52		54					59
	61	62		64	65	66	67	68	69
	71	72	73	74	75	76	77	78	79
80	81				85	86	87	88	89
90	91	92	93	94				98	99

Exercice 4 :

	<h1>QUADRILLO ★</h1>	9
<p><u>Reproduis la figure :</u></p>		
