

# Jeudi 7 mai

## Exercice 1 : écrire des nombres en lettres

A l'aide de la leçon n° , écris les nombres suivants en lettres :

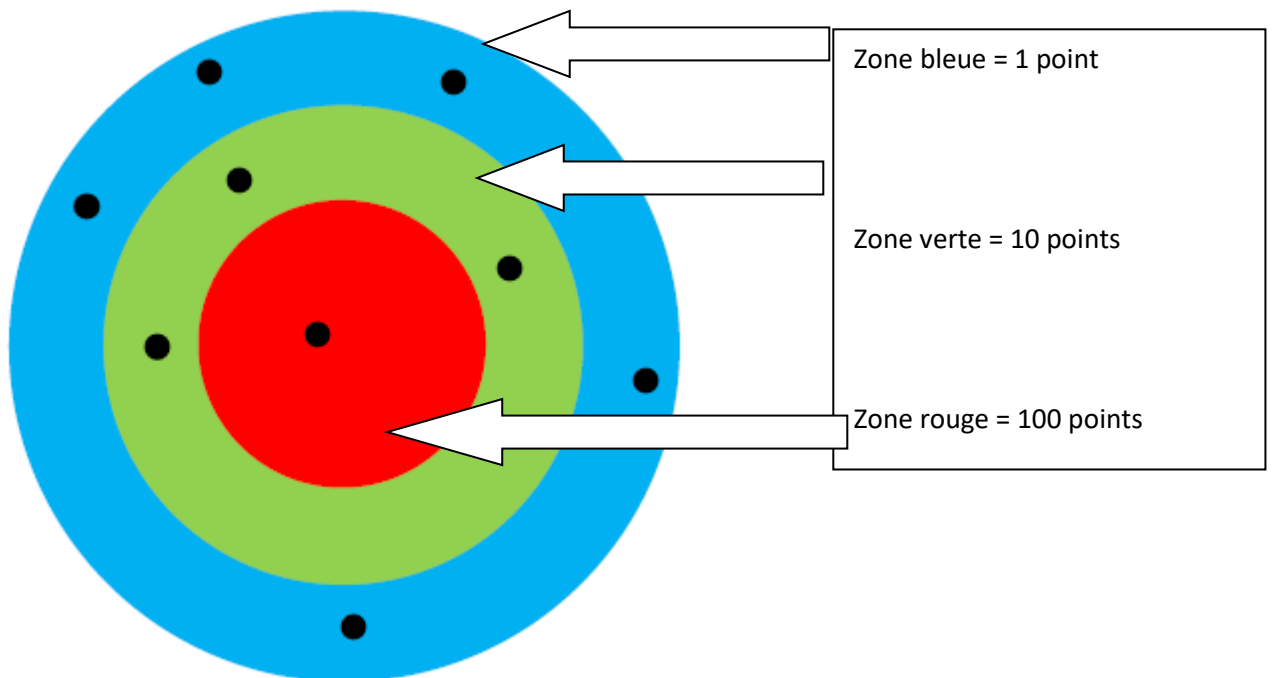
76 :

117 :

573 :

## Exercice 2 : jeu de la cible

Exemple :



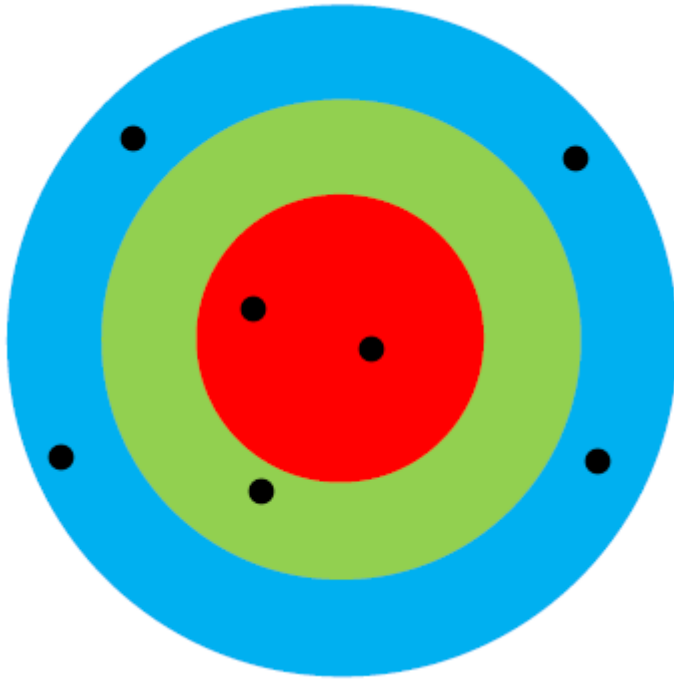
5 marques dans la zone bleue = 5 points (1 + 1 + 1 + 1 + 1)

3 marques dans la zone verte = 30 points (10+10+10)

1 marque dans la zone rouge = 100 points

Total :  $100+30+5 = 135$  points

A toi de compter :



Zone bleue =

Zone verte =

Zone rouge =

TOTAL =

### Exercice 3 : calcul

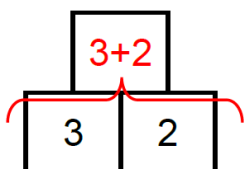
$$37 + \dots = 40$$

$$154 + \dots = 160$$

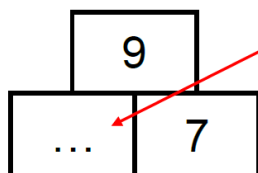
$$742 + \dots = 750$$

### Exercice 4 : Pyramide

Comment ça marche ?



La case au-dessus de deux autres est obtenue en additionnant les deux nombres

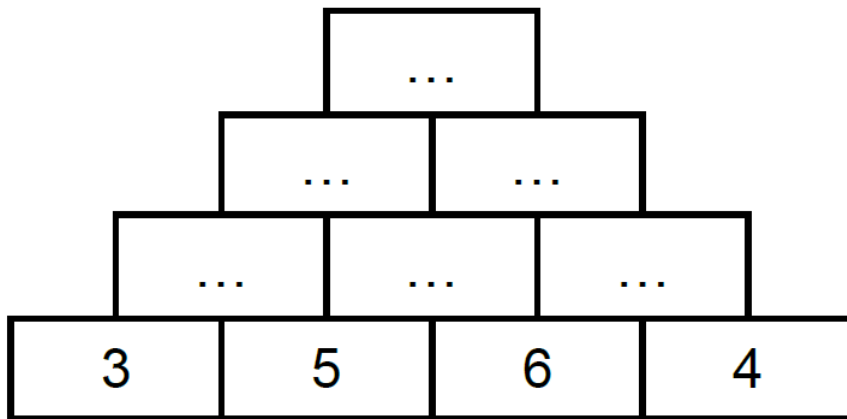


Pour trouver ce nombre, On utilise la règle de la pyramide :  $\dots + 7 = 9$   
Donc le nombre qui manque c'est 2



# PyRaMiDe ★★

5



Exercice 5 : compléter la leçon puis la coller dans le cahier et la mémoriser.

Leçon 8 : La carte de 100 :

