

BILAN DE MATHÉMATIQUES – CE1

Numération

Exercice 1 :

Dictée de nombres



Exercice 2 :

Écris les nombres en chiffres.

a. cent-vingt-trois →

b. quatre-cent-quatre-vingt-huit →

Exercice 3 :

Ecris les nombres en lettres :

90 →

165 →

Exercice 4 :

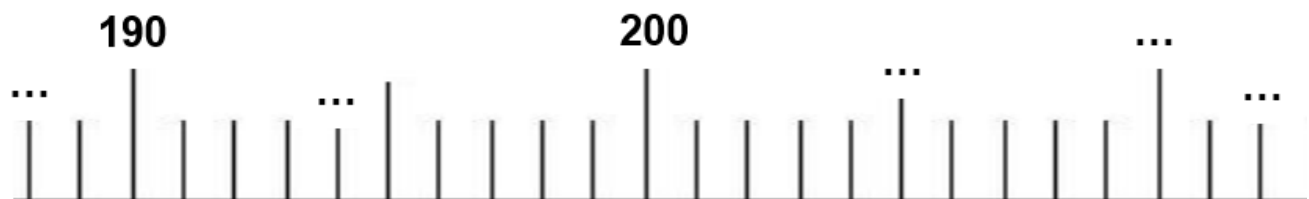
Compléter la bande numérique :

| | | | | | | | | | |
|-----|-----|-----|-----|-----|-----|-----|-----|-----|-----|
| 173 | 174 | ... | ... | 177 | ... | ... | 180 | ... | ... |
|-----|-----|-----|-----|-----|-----|-----|-----|-----|-----|

Exercice 5 :

Place des nombres sur la droite graduée :

212 - 194 - 188 - 205 - 210



Exercice 6:

Complète avec le signe < ou >

758 ... 633

210 ... 285

182 ... 150

127 ... 111

596 ... 497

193...139

Exercice 14: Range les nombres dans l'ordre croissant :

157 - 134 - 174 - 43 - 170 →

BILAN DE MATHEMATIQUES – CE1

calcul

Exercice 1 :

Écris le nombre correspondant.

$800 + 30 = \dots$

$600 + 40 + 5 = \dots$




$400 + 10 + 2 = \dots$

$2 + 70 + 400 = \dots$

$700 + 5 = \dots$

Exercice 2 :

Ecrire le résultat de calculs dictés



Exercice 3 :

Calcule

$22 + 10 = \dots$

$34 + 20 = \dots$

$57 + 20 = \dots$

$34 + 30 = \dots$

$51 + 30 = \dots$

$72 + 6 = \dots$

$22 - 2 = \dots$

$34 - 4 = \dots$

$85 - 10 = \dots$

$92 - 10 = \dots$

$51 - 11 = \dots$

$72 - 11 = \dots$

Exercice 4:

Pose et calcule les opérations suivantes sur ton cahier :

| | | | | |
|-------------|--------------|---------------|-------------|---------------|
| $23 + 45 =$ | $142 + 33 =$ | $142 + 239 =$ | $95 - 53 =$ | $469 - 237 =$ |
|-------------|--------------|---------------|-------------|---------------|

