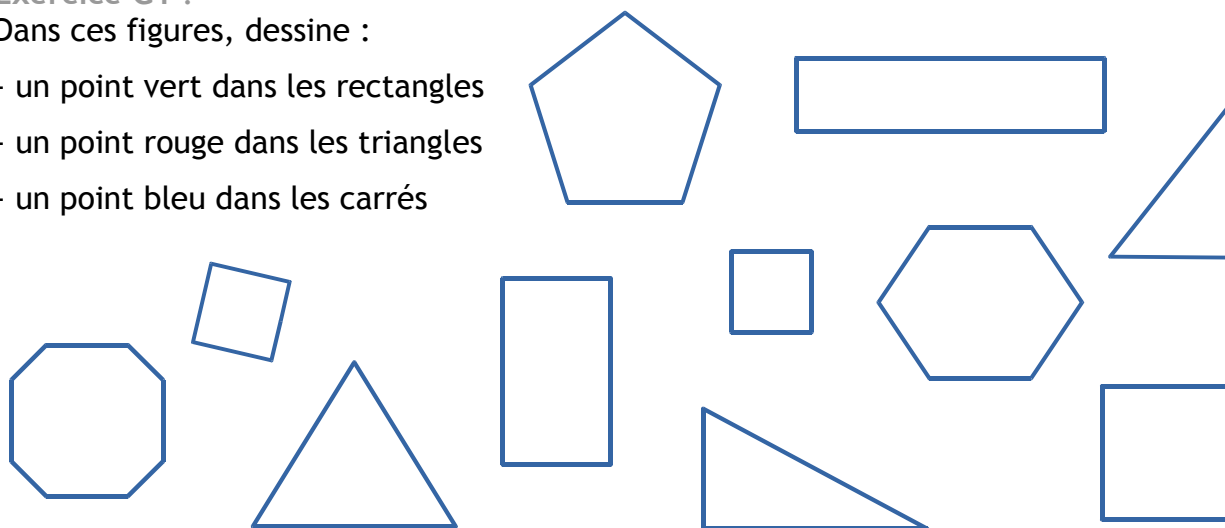


Exercice G1 :

Dans ces figures, dessine :

- un point vert dans les rectangles
- un point rouge dans les triangles
- un point bleu dans les carrés



22

23


24

Exercice G2 :

Complète chaque forme géométrique et écris son nom.



.....



.....

25



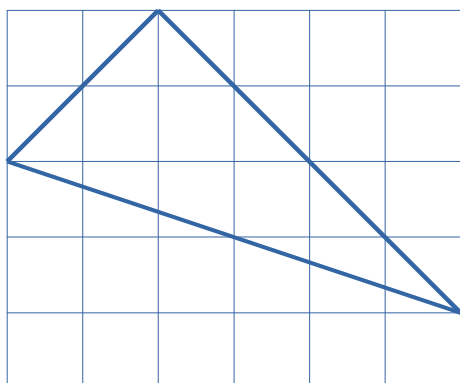
.....

26



Exercice G3 :

Regarde la figure qui est tracée. Tu dois la reproduire sur le quadrillage à côté en utilisant ta règle.



27