



Séance 3

Écris en lettres :

713 : _____

Remplis cette fleur :



Comment faire facilement $19 + 16$?


→ Utilise les compléments à 10 :

$$\begin{aligned} 19 + 16 &= 10 + 9 + 10 + 1 + 5 \\ &= 20 + 10 + 5 = 35. \end{aligned}$$

Fais la même chose pour $19 + 18 =$



Fais la même chose pour $28 + 37 =$



Fiche calcul

Fiche calcul (1)

$$39 + 10 = \dots$$

$$73 + 10 = \dots$$

$$99 + 10 = \dots$$

$$10 + 125 = \dots$$

$$174 + 10 = \dots$$

Fiche calcul (2)

$$79 - 10 = \dots$$

$$99 - 10 = \dots$$

$$153 - 10 = \dots$$

$$280 - 10 = \dots$$

$$657 - 10 = \dots$$

Fiche calcul (3)

$$173 + 20 = \dots$$

$$119 + 20 = \dots$$

$$20 + 525 = \dots$$

$$474 + 20 = \dots$$

$$370 + 20 = \dots$$

Fiche calcul (4)

$$151 - 20 = \dots$$

$$194 - 20 = \dots$$

$$231 - 20 = \dots$$

$$720 - 20 = \dots$$

$$215 - 20 = \dots$$