

Module 15

séance 1

Activités ritualisées

★★

★★★



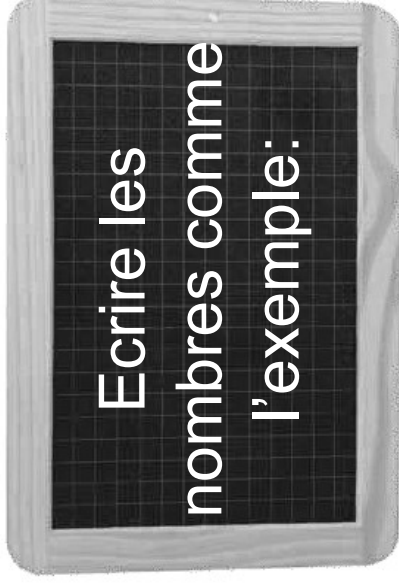
411

1418

Activités ritualisées

★★

★★★



412

$4C + 1D + 2U$

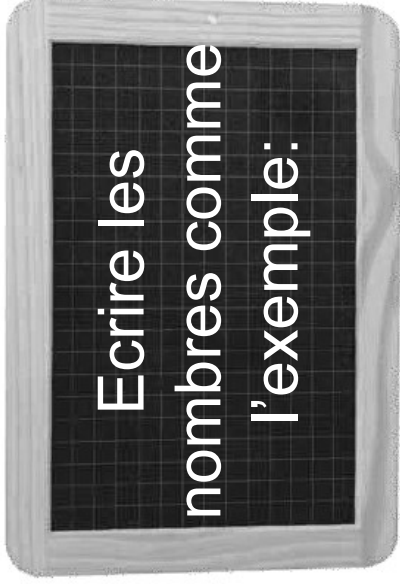
1438

$1UM + 4C + 3D + 8$

Activités ritualisées

★★

★★★



387

5438

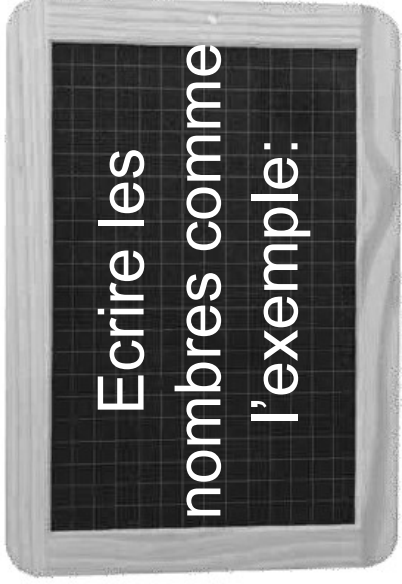


Activités ritualisées

★★

520

★★★



6520

Activités ritualisées

★★

403

★★★



3403



Calcul mental

★★

$$18 + \dots = 25$$

$$0 + \dots = 110$$

$$405 + \dots = 427$$



★★★

$$130 + \dots = 24$$

$$1450 + \dots = 153$$

$$373 - \dots = 341$$

Ateliers



Atelier I



Fabriquer les barres
mandées par la maitresse.



MULTIPLICATION - FICHE 2 ★★

1.* Complète :

$$4 + 4 = \dots \times \dots = \dots$$

$$7 + 7 = \dots \times \dots = \dots$$

$$5 + 5 + 5 + 5 + 5 = \dots \times \dots = \dots$$

$$8 + 8 + 8 = \dots \times \dots = \dots$$

Comme $6 \times 9 = 54$ alors on $9 \times 6 = \dots$

Comme $6 \times 7 = 42$ alors on $7 \times 6 = \dots$

Comme $8 \times 9 = 72$ alors on $9 \times 8 = \dots$

2.* Complète :

$$7 \times \dots = 14 \quad \dots \times 9 = 9$$

$$\dots \times 8 = 24 \quad 7 \times \dots = 21$$



Atelier I

Nous fabriquons 1 245 sans
utiliser de paquet de mille.



NUMÉRATION ★★ - FICHE II

1.* Ecris un nombre qui convient :

$$700 < \dots < 800 \quad 625 < \dots < 630$$

$$9\,700 < \dots < 9\,800 \quad 9\,880 < \dots < 9\,890$$

2.* Calcule en te souvenant comme faire $+9$,
 -9 , $+19$, -19 :

$$143 + 9 = \dots \quad 272 + 9 = \dots$$

$$685 - 9 = \dots \quad 781 - 9 = \dots$$

$$462 + 19 = \dots \quad 516 + 19 = \dots$$

$$694 - 19 = \dots \quad 732 - 19 = \dots$$

La guerre du
potager ★★

