









Tous les exercices se font à l'oral ou de tête, sauf ceux avec le symbole  .

N°	Consigne					
126	<b>Compte</b> de 10 en 10, à partir de 4.					
127	 <b>Ecris</b> en lettres:	20:	30:			
128	 <b>Ecris</b> en lettres:	21:	39:			
129	 <b>Ecris</b> en lettres:	40: ..... 50: ..... 60: .....				
130	 Combien de cubes comptes-tu? (Attention aux cubes « cachés »!)	(exercice annexe)				
131	 <b>Mesure</b> les segments à l'aide de ta règle graduée:					
132	<b>Calcule :</b>	Tire au sort 10 calculs de ton enveloppe de tables d'additions.				
133	<b>Calcule :</b>	Tire au sort 10 calculs de ton enveloppe de tables d'additions.				
134	<b>Apprends</b> la leçon 14.					
135	<b>Calcule :</b>	Tire au sort 10 calculs de ton enveloppe de tables d'additions.				
136	<b>Nomme</b> les nombres:	66	85	77	71	94
137	 <b>Révis</b> les compléments à 10, puis <b>complète</b> pour obtenir 10 :	..... + 3	4 + .....	8 + .....	..... + 1	
138	<b>Apprends</b> la leçon 15.					
139	 <b>Révis</b> la leçon 15 puis <b>complète</b> avec 24 – 60 - 365	Une année, c'est ..... jours. Une semaine, c'est ..... jours. Une minute, c'est ..... secondes.				
140	<b>Calcule :</b>	Tire au sort 10 calculs de ton enveloppe de tables d'additions.				
141	<b>Calcule :</b>	Tire au sort 10 calculs de ton enveloppe de tables d'additions.				
142	<b>Complète</b> les chèques :	(exercice annexe)				