

Vendredi 10 avril

Exercice 1 : compte de 10 en 10 de 0 jusqu'à 100.

Utiliser la bande numérique.

Exercice 2 : retrouve les décompositions de 6

$$5 + \dots = 6$$

$$2 + \dots = 6$$

$$3 + \dots = 6$$

$$0 + \dots = 6$$

Exercice 3 : lire la carte mentale du 7 et commencer à la mémoriser.

Exercice 4 : la monnaie.

Voici ton portemonnaie :

PORTE MONNAIE 2



Dessine les billets et pièces que tu vas utiliser pour acheter un livre à 21 euros :

Dessine les billets et pièces que tu vas utiliser pour acheter un manteau à 35 euros :

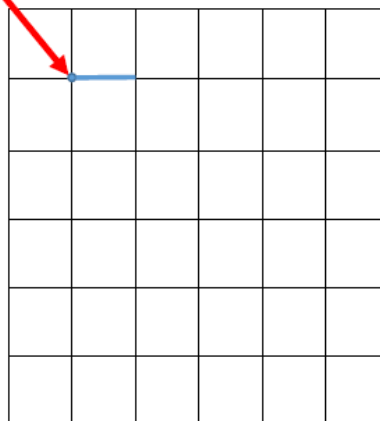
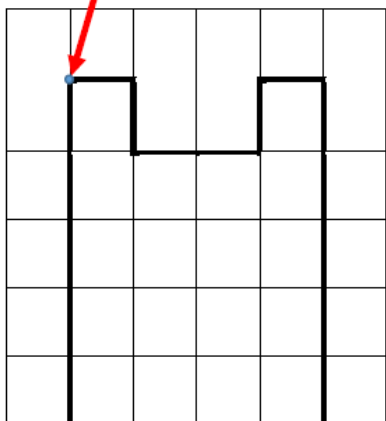
Exercice 5 : chronomaths 3 : calculs 11 à 20 à faire en 3 minutes.


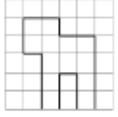
Exercice 6 : reproduire une figure.

Comment faire ?

Je prends des repères à partir des **nœuds** du quadrillage :

Je prends ce point comme repère, puis je trace le trait d'un carreau de long.





Repro ★

1

Reproduis la figure :

