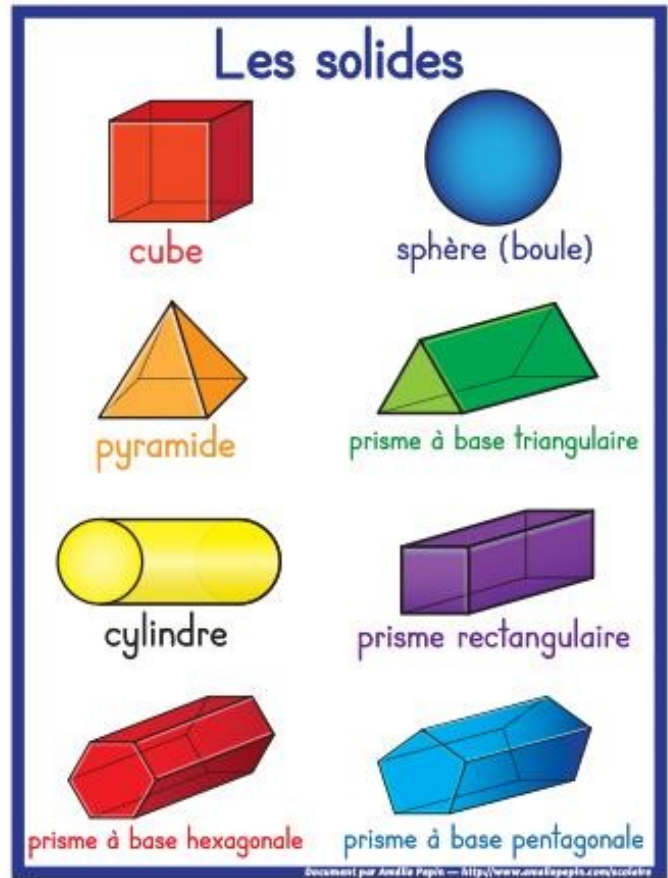


Les solides

Avec l'aide d'un adulte, tu vas former un (ou plusieurs) solide(s) qui n'a que des faces planes.

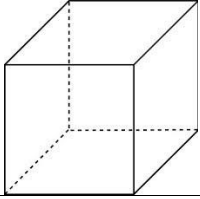
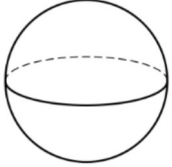
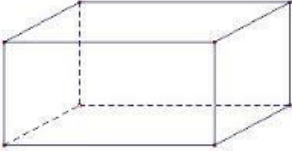
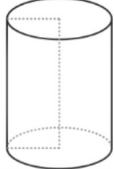
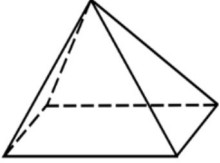


Leçon 13 : Les solides

⇒ Je sais reconnaître les principaux solides

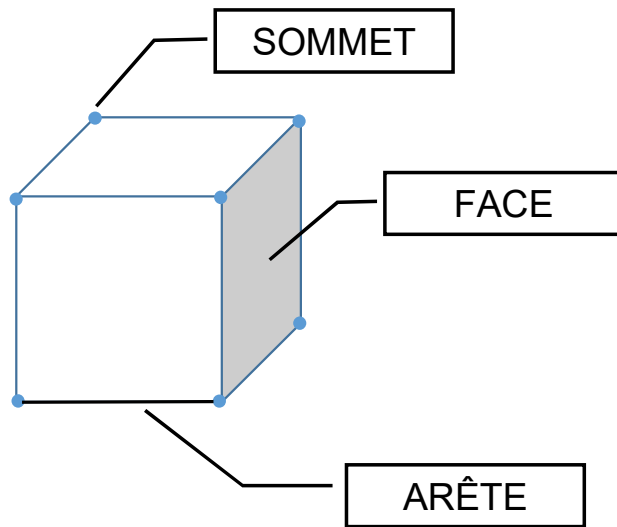
Tu vas lire la leçon
13 dans ton fichier.

Les solides

<i>Ceux qui ne roulent pas</i>	<i>Ceux qui roulent</i>
<p>le cube</p> 	<p>la boule</p> 
<p>le pavé</p> 	<p>le cylindre</p> 
<p>la pyramide</p> 	

Le vocabulaire des solides :

Les solides



<http://lesacdemaitresseclaire.eklablog.com/>

Tu vas compléter la carte d'identité du (ou des) solide(s) que tu as fabriqué.
Si tu as besoin, tu peux regarder la vidéo avant.

<https://lesfondamentaux.reseau-canope.fr/discipline/mathematiques/solides/cubes/distinguer-pave-droit-et-cube.html>

<https://lesfondamentaux.reseau-canope.fr/video/reconnaitre-et-decrire-le-cube.html>


Distinguer pavé droit et cube

Solides • Cubes • Niveau : Cycle 2 • Durée : 02:29



Reconnaitre et décrire le cube

Solides • Cubes • Niveau : Cycle 2 • Durée : 02:40



n/

Les solides

FICHES DANS L'ANNEXE À IMPRIMER

 Carte d'identité

Nom du solide : _____

Nombre de faces : _____

Nombre de sommets : _____

Nombre d'arêtes : _____



 Carte d'identité

Nom du solide : _____

Nombre de faces : _____

Nombre de sommets : _____

Nombre d'arêtes : _____



 Carte d'identité

Nom du solide : _____

Nombre de faces : _____

Nombre de sommets : _____

Nombre d'arêtes : _____



 Carte d'identité


Nom du solide : _____

Nombre de faces : _____

Nombre de sommets : _____

Nombre d'arêtes : _____





 Carte d'identité

Nom du solide : _____

Nombre de faces : _____

Nombre de sommets : _____

Nombre d'arêtes : _____



 Carte d'identité

Nom du solide : _____

Nombre de faces : _____

Nombre de sommets : _____

Nombre d'arêtes : _____

