



CE1-
CE2

Module 14

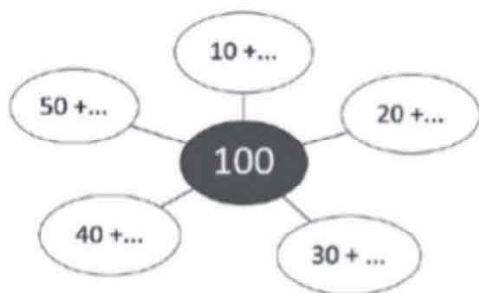
séance 4

CE1 

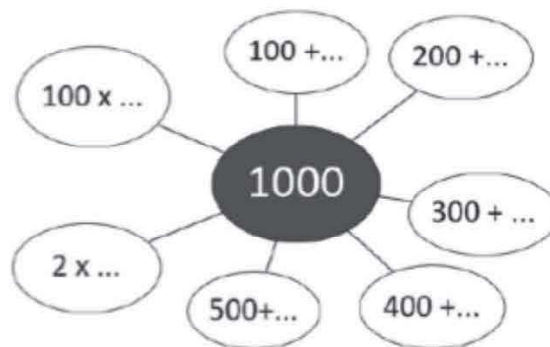
CE2 

Complète les cartes mentales.

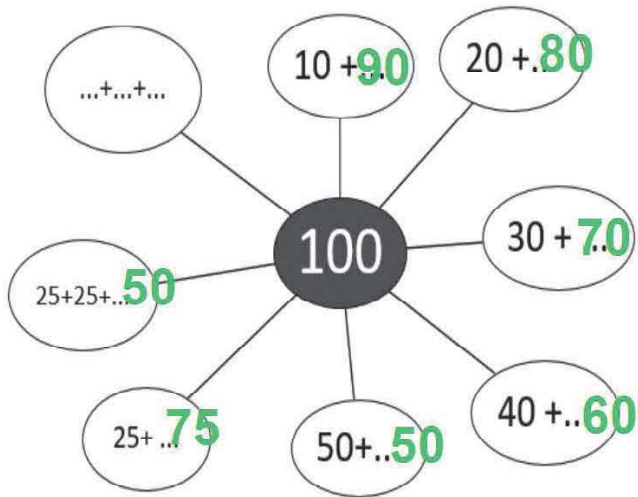
100



1000



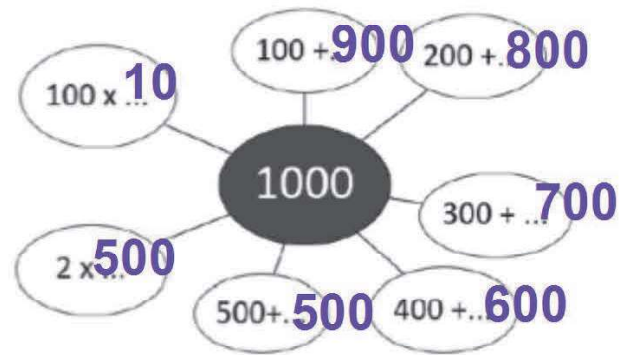
CE1



CE2



1000



CE1



Calcule :

$$90 + 80 =$$

$$90 + 50 =$$

$$80 + 60 =$$

$$40 + 80 =$$

CE2



Calcule :

$$4\ 736 + 8 =$$

$$6\ 495 + 8 =$$

$$6\ 482 - 8 =$$

CE1



Calcule :

$$90 + 80 = 170$$

$$90 + 50 = 130$$

$$80 + 60 = 140$$

$$40 + 80 = 120$$

CE2



Calcule :

$$4\ 736 + 8 =$$

$$4\ 736 + 10 - 2 =$$

$$4\ 746 - 2 = 4\ 744$$

$$6\ 495 + 8 =$$

$$6\ 495 + 10 - 2 =$$

$$6\ 505 - 2 = 6\ 503$$

$$6\ 482 - 8 =$$

$$6\ 482 - 10 + 2 =$$

$$6\ 472 + 2 = 6\ 474$$



CE1



CE2



Complète le schéma. Ecris ton calcul. Réponds à la question.

Samuel a 23 billes. Il a 10 billes de plus que Sarah.

Combien de billes Sarah a-t-elle ?

Lola gagne 1 940 euro par mois. Elle gagne 240 euro de plus que Lucas.

Combien Lucas gagne-t-il par mois ?
