



CE1



CE2



**Complète le schéma. Ecris ton calcul. Réponds à la question.**

Samuel a 23 billes. Il a 10 billes de plus que Sarah.  
**Combien de billes Sarah a-t-elle ?**

23	
?	10

$23 - 10 = 13$   
Sarah a **13 billes.**

Lola gagne 1 940 euro par mois. Elle gagne 240 euro de plus que Lucas.

**Combien Lucas gagne-t-il par mois ?**

1 940	
?	240

$1\ 940 - 240 = 1\ 700$   
Lucas gagne **1 700 euro.**

# CE1 CE2

## Quelle heure est-il ?

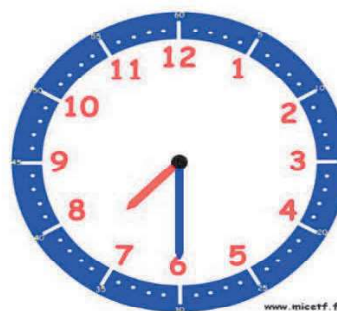
L'horloge donne l'heure grâce à deux aiguilles.

La grande aiguille indique les minutes, la petite aiguille indique les heures.



Il est **4 heures** :

- la petite aiguille vise le « 4 »
- la grande indique le « 12 » qui représente « 0 » minute.



Il est **7h30** :

- la petite aiguille est après le 7 et avant le 8
- la grande aiguille est sur le 6 qui représente 6 fois 5 minutes, c'est-à-dire 30 minutes (une demi-heure)

# CE2



Il est **8h15 (8 heures et quart)** :

- la petite aiguille vise le "8"
- la grande aiguille indique le « 3 » qui représente 3 fois 5 minutes , c'est-à-dire 15 minutes.



Il est **5h45 (ou 6 heures moins le quart)** :

- la petite aiguille est après le "5" et avant le "6".
- la grande aiguille indique le « 9 » qui représente 9 fois 5 minutes , c'est-à-dire 45 minutes.




Il est **2h40 (ou 3 heures moins 20)** :



- la petite aiguille est après le "2" et avant le "3".
- la grande aiguille indique le « 8 » qui représente 8 fois 5 minutes , c'est-à-dire 40 minutes.

# CE1

# CE2

## Quelle heure est-il ?

 **HORODATOR ★★ 1**

		
Il est.....h	Il est.....h	Il est.....h



Il est.....h.....min






Il est.....h.....min




Il est.....h.....min

 **HORODATOR ★★★ 1**

		
Il est.....h.....min	Il est.....h.....min	Il est.....h.....min



Il est.....h.....min



Il est.....h.....min



Il est.....h.....min

CE1 

CE2 

### Quelle heure est-il ?

 HORODATOR ★★ **1**

 Il est <b>8</b> h	 Il est <b>5</b> h	 Il est <b>12</b> h
---	---	--




Il est **3h30** min






Il est **9 h30** min



Il est **11 h 30** min

 HORODATOR ★★★ **1**

 Il est <b>14h30</b> min	 Il est <b>7h30</b> min	 Il est <b>12h 30</b> in
---	--	---



Il est **2 h15** min



Il est **12 h00** min



Il est **7 h40** min