

## Programme de construction - Lundi 30 mars

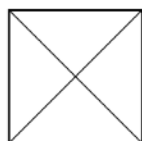
Aide-toi de la leçon « Leçon cercle » si besoin.

- I. **Réalise le programme de construction en t'aidant des schémas ci-dessous.**


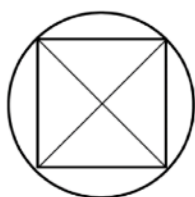
Trace un carré.



Trace les diagonales de ce carré.

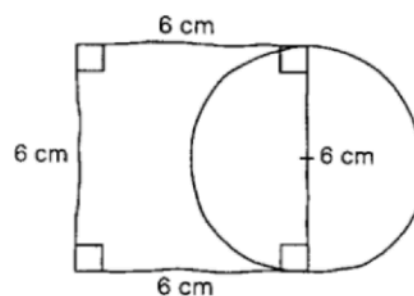


Trace un cercle ayant pour centre  
Le point d'intersection des diagonales et  
passant par les sommets du carré.



- II. **Réalise le programme de construction en t'aidant du tracé à main levée ci-dessous.**

Trace un carré de 6cm de côté. Trace un cercle ayant pour diamètre un côté du carré.



Repasse en rouge le diamètre du cercle.